



PROCESSO SELETIVO PÚBLICO DE PROVAS E TÍTULOS DA PREFEITURA MUNICIPAL DE LAGOA SANTA

FUNDAMENTAL INCOMPLETO

(Agente de Serviços Funerários, Auxiliar de Serviços Gerais e Servente Escolar)

Códigos: 101 a 103

LEIA COM ATENÇÃO AS SEGUINTE INSTRUÇÕES

1. Este caderno contém as questões da **Prova Objetiva**.
2. Use a Folha de Respostas (versão do Candidato) reproduzida ao final deste caderno apenas para marcar o Gabarito.
3. Ao receber a **Folha de Respostas da Prova Objetiva**:
 - Confira seu nome, número de inscrição e cargo.
 - Assine, **A TINTA**, no espaço próprio indicado.

4. **ATENÇÃO**: transcreva no espaço apropriado da sua **FOLHA DE RESPOSTAS**, com sua caligrafia usual, mantendo as letras maiúsculas e minúsculas, desconsiderando aspas e autoria, a seguinte frase:

“Tenham paciência: o futuro é hoje.” Chico Anysio

ATENÇÃO:

FOLHA DE RESPOSTAS SEM ASSINATURA NÃO TEM VALIDADE.

5. Ao transferir as respostas para a **Folha de Respostas**:

01 • use apenas caneta esferográfica azul ou preta.

02 • preencha, sem forçar o papel, toda a área reservada à letra correspondente à resposta solicitada em cada questão.

03 • assinale somente **uma** alternativa em cada questão.

04 Sua resposta **NÃO** será computada se houver marcação de mais de uma alternativa, questões não assinaladas ou rasuras.

NÃO DEIXE NENHUMA QUESTÃO SEM RESPOSTA.

A **Folha de Respostas** não deve ser dobrada, amassada ou rasurada.

ATENÇÃO: Deverá ser resguardado o Período de Sigilo, não sendo permitido ao candidato se ausentar em definitivo da sala de provas antes de decorridas 2 (duas) horas do início das provas. Os candidatos não poderão utilizar, em hipótese alguma lápis, lapiseira, corretivos, borracha ou outro material distinto do constante em Edital. Quaisquer acessórios como óculos escuros, boné, chapéu, gorro, lenço ou similares não terão seu uso permitido. As instruções constantes no Caderno de Questões e na Folha de Resposta, bem como as orientações e instruções expedidas pela FUNDEP durante a realização das provas, complementam este Edital e deverão ser rigorosamente observadas e seguidas pelo candidato. Será proibida, durante a realização das provas, qualquer espécie de consulta ou comunicação entre os candidatos ou entre estes e pessoas estranhas, oralmente ou por escrito, assim como não será permitido o uso de livros, códigos, manuais, impressos, anotações ou quaisquer outros meios. Será proibido, durante a realização das provas, fazer uso ou portar, mesmo que desligados, telefone celular, relógios, pagers, beep, agenda eletrônica, calculadora, walkman, notebook, palmtop, gravador, transmissor/receptor de mensagens de qualquer tipo ou qualquer outro equipamento eletrônico. Findo o horário-limite para a realização da prova, o candidato deverá entregar a Folha de Respostas da Prova Objetiva, devidamente preenchida e assinada, ao Aplicador de Sala. Os três últimos candidatos deverão permanecer na sala até que o último candidato termine sua prova, devendo todos assinar a Ata de Ocorrências da sala, atestando a idoneidade da fiscalização das provas, retirando-se da sala de prova de uma só vez.

O Caderno de Questões e o Gabarito da Prova Objetiva serão divulgados no endereço eletrônico www.gestaodeconcursos.com.br no dia útil subsequente à data de realização da prova.

DURAÇÃO MÁXIMA DA PROVA: 3 (TRÊS) HORAS

ATENÇÃO

Sr.(a) Candidato(a),

Antes de começar a fazer a prova, confira se este caderno contém, ao todo, **25 (vinte e cinco)** questões de múltipla escolha, cada uma constituída de 4 (quatro) alternativas de respostas, assim distribuídas: 10 (dez) questões de **Língua Portuguesa**, 10 (dez) questões de **Matemática** e 5 (cinco) questões de **Atualidades**, todas perfeitamente legíveis.

Havendo algum problema, informe **imediatamente** ao aplicador de provas para que ele tome as providências necessárias.

Caso não observe essa recomendação, não lhe caberá qualquer reclamação ou recursos posteriores.

LÍNGUA PORTUGUESA

INSTRUÇÃO: Leia o texto a seguir para responder às questões de 1 a 10.

Jovem indígena carrega pai nas costas por 6h para ele tomar 1ª dose da vacina contra Covid-19

No último domingo (2), o médico neurocirurgião Erik Jennings compartilhou uma foto inspiradora que mostra um jovem indígena carregando o pai nas costas para receber a primeira dose contra a Covid-19.

A fotografia é antiga, mas foi compartilhada novamente para relembrar os momentos mais marcantes do médico na região do Baixo Amazonas.



Erik é coordenador da residência médica em neurocirurgia do Hospital Regional do Baixo Amazonas (Universidade do Estado do Pará), em Santarém, médico da Sesai (Secretaria Especial de Saúde Indígena) e também autor do livro “Paradô: Histórias de um Neurocirurgião do Interior da Amazônia”.

Em sua estadia na região, que, ele teve o privilégio de conhecer Tawy Zoé e seu pai, Wahu Zoé, da tribo indígena Zoé (também conhecida como Zo'é ou poturu).

O grupo indígena, estimado em 250 indivíduos, habita a Terra Zoé (ou área Cuminapanema/Urukuriana), entre os rios Erepecuru, Cuminapanema e Curuá, no Pará.

Na legenda da fotografia compartilhada, o médico explica que Tawy carregou o pai por 6 horas dentro de uma floresta envolta de morros, igarapés e obstáculos até o posto de vacinação.

“[Foi um] momento marcante de 2021. [...] Feito a vacina, ele colocou o pai nas costas novamente e andou por mais 6 horas até sua aldeia”, explicou Erik.

“Chega o ano de 2022, e não se registrou nenhum caso de Covid-19 na população Zoé”, completou o médico.

Mais do que um exemplo da importância de se vacinar, Tawy e Wahu representam um amor puro, que exala com cuidados, respeito, carinho e com uma força incondicional um pelo outro, pelo nossos pais e pela vida.

Disponível em: <https://bityli.com/1CiuUd7>.
Acesso em: 5 jan. 2022 (adaptado).

QUESTÃO 1

De acordo com o texto, assinale a alternativa correta.

- A) A fotografia compartilhada pelo médico foi tirada no início do ano de 2022 pelo médico Erik Jennings.
- B) A vacinação tem contribuído até agora para que a tribo Zoé não registre nenhum caso de Covid-19.
- C) O jovem Tawy carregou seu pai por um longo caminho, passando, inclusive, por outras cidades.
- D) Wahu possui diversos filhos, como acontece nas aldeias indígenas, mas apenas Tawy carregou o pai.

QUESTÃO 2

Entre outras coisas como amor, respeito, gratidão etc., o texto ressalta que o fato narrado exalta a

- A) grandeza de ser médico na Amazônia.
- B) importância das fotografias na atualidade.
- C) relevância da vacinação contra a Covid-19.
- D) influência dos médicos no interior do país.

QUESTÃO 3

De acordo com o texto, assinale a alternativa correta.

- A) Nenhuma das tribos da Amazônia apresentou contaminados pela Covid-19 graças à vacinação.
- B) A região onde vivem os Zoé é cercada por rios e está localizada no território do estado do Pará.
- C) A tribo Zoé possui milhares de indivíduos se considerado todo o território em que os índios vivem.
- D) Poturu é uma outra denominação utilizada para nomear a terra habitada pela tribo indígena Zoé.

QUESTÃO 4

Releia este trecho.

“Chega o ano de 2022, e não se registrou nenhum caso de Covid-19 na população Zoé”, completou o médico.

Nesse trecho, as aspas foram utilizadas para

- A) marcar a fala do médico neurocirurgião.
- B) destacar a importância do que foi escrito nessa parte.
- C) indicar que o leitor deve ter mais atenção nesse trecho do texto.
- D) separar uma frase sem importância no texto.

QUESTÃO 5

Erik Jennings desenvolve uma série de atividades na Amazônia.

De acordo com o texto, assinale a alternativa que não é desenvolvida por ele.

- A) Coordenador de uma universidade
- B) Autor de livro
- C) Médico neurocirurgião
- D) Pescador nos rios da Amazônia

QUESTÃO 6

Assinale a alternativa em que constam apenas adjetivos.

- A) Indígena – Costas – Vacina – População
- B) Momento – Aldeia – Completou – Médico
- C) Educacional – Compartilhada – Neurocirurgião – Respeito
- D) Inspiradora – Antiga – Puro – Incondicional

QUESTÃO 7

Assinale a alternativa em que as palavras estão corretamente colocadas em ordem alfabética.

- A) Carregando – Jovem – Indígena – Pai
- B) Compartilhada – Fotografia – Momentos – Novamente
- C) Coordenador – Residência – Neurocirurgia – Hospital
- D) Missão – Social – Educacional – Ambiental

QUESTÃO 8

Assinale a alternativa em que a palavra destacada é proparoxítona e, por isso, acentuada.

- A) “[...] Secretaria Especial de **Saúde** Indígena [...]”
- B) “[...] Em sua estadia na **região** [...]”
- C) “[...] o **médico** explica que Tawy carregou o pai por 6 horas [...]”
- D) “[...] dentro de uma floresta envolta de morros, **igarapés** [...]”

QUESTÃO 9

Assinale a alternativa em que a palavra destacada não é um verbo.

- A) “[...] Erik **define** como uma “missão social, educacional e ambiental” na Amazônia [...]”
- B) “[...] o médico explica que Tawy **carregou** o pai por 6 horas [...]”
- C) “**Chega** o ano de 2022, e não se registrou nenhum caso de Covid-19 [...]”
- D) “[...] dentro de uma floresta **envolta** de morros, igarapés e obstáculos [...]”

QUESTÃO 10

Releia este trecho.

“[...] o médico neurocirurgião Erik Jennings compartilhou uma foto inspiradora que mostra um jovem indígena carregando o pai nas costas para receber a primeira dose contra a Covid-19.”

Esse trecho diz que a cena fotografada é

- A) corajosa.
- B) estimulante.
- C) sacrificante.
- D) difícil.

MATEMÁTICA

QUESTÃO 11

Fábio é confeitoiro e produz bombons que pesam, em média, 75 g cada um.

Quantos gramas terá em média uma dúzia desses bombons?

- A) 900 gramas.
- B) 750 gramas.
- C) 450 gramas.
- D) 225 gramas.

QUESTÃO 12

Luiza levou a um supermercado moedas de 50 centavos para trocar por cédulas. Ela recebeu R\$ 64,00 na troca.

Quantas moedas de 50 centavos ela trocou?

- A) 112 moedas.
- B) 128 moedas.
- C) 256 moedas.
- D) 640 moedas.

QUESTÃO 13

Observe o anúncio realizado por uma loja virtual de eletrodomésticos.

Prepare-se para um 2022 com essas
OFERTAS IMPERDÍVEIS

**10% de desconto em todos os
produtos do site**

É sua última oportunidade do ano para aproveitar este super desconto! Não perca!

Mariana comprou no *site* um produto que custava R\$ 710,00 e recebeu o desconto de 10%. Qual foi o valor pago por Mariana nessa compra?

- A) R\$ 639,00.
- B) R\$ 640,00.
- C) R\$ 700,00.
- D) R\$ 739,00.

QUESTÃO 14

Uma fábrica de costura produz 482 camisas por mês. Quantas camisas produzirá em um ano e cinco meses?

- A) 2892 camisas.
- B) 3846 camisas.
- C) 7230 camisas.
- D) 8194 camisas.

QUESTÃO 15

Uma loja de roupas masculinas anunciou produtos em promoção pelos valores mostrados na tabela a seguir.

Loja de Roupas "Vestir Bem"	
Produtos em promoção	Valor
Tênis	R\$ 120,00
Calça	R\$ 70,00
Camisa	R\$ 40,00
Boné	R\$ 30,00

Gabriel comprou duas calças, uma camisa e um boné e teve 20% de desconto no valor total de sua compra. Qual valor Gabriel pagou pela compra?

- A) R\$ 210,00.
- B) R\$ 168,00.
- C) R\$ 142,00.
- D) R\$ 112,00.

QUESTÃO 16

Observe o anúncio do Ministério da Saúde em relação à vacinação contra a Covid-19.



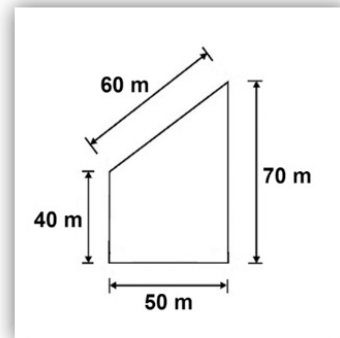
Disponível em: <https://www.gov.br/saude/pt-br/vacinacao/>
Acesso em: dez 2021.

Do total de doses distribuídas, quantas ainda não haviam sido aplicadas até a data de publicação dessas informações?

- A) 66.034.588.
- B) 74.174.612.
- C) 76.134.698.
- D) 696.395.135.

QUESTÃO 17

Observe a planta de um salão de festas na figura a seguir.



Qual é o perímetro desse salão de festas?

- A) 220 metros.
- B) 180 metros.
- C) 170 metros.
- D) 130 metros.

QUESTÃO 18

Foram contratadas para trabalhar em um evento quatro pessoas. A tabela a seguir mostra o registro do horário de entrada e saída de cada uma delas.

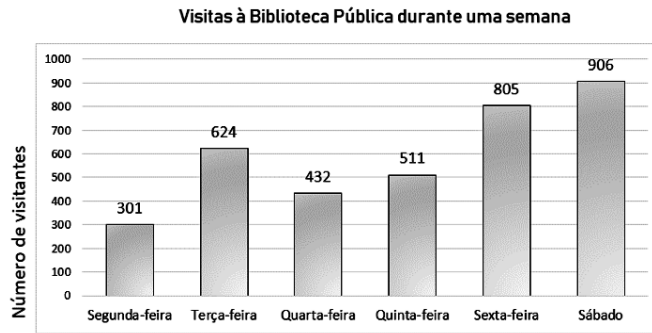
FUNCIONÁRIO	HORÁRIO DE ENTRADA	HORÁRIO DE SAÍDA
FERNANDA	12h00	20h00
LUIZA	11h30	21h00
PAULO	14h20	23h30
TALITA	9h00	16h00

A partir dos dados apresentados na tabela, em relação ao tempo total de permanência no evento, é possível afirmar que o funcionário que permaneceu por mais tempo foi:

- A) Fernanda.
- B) Luiza.
- C) Paulo.
- D) Talita.

QUESTÃO 19

A bibliotecária de uma Biblioteca Pública organizou um gráfico para registrar o número de visitantes por dia, durante uma semana.

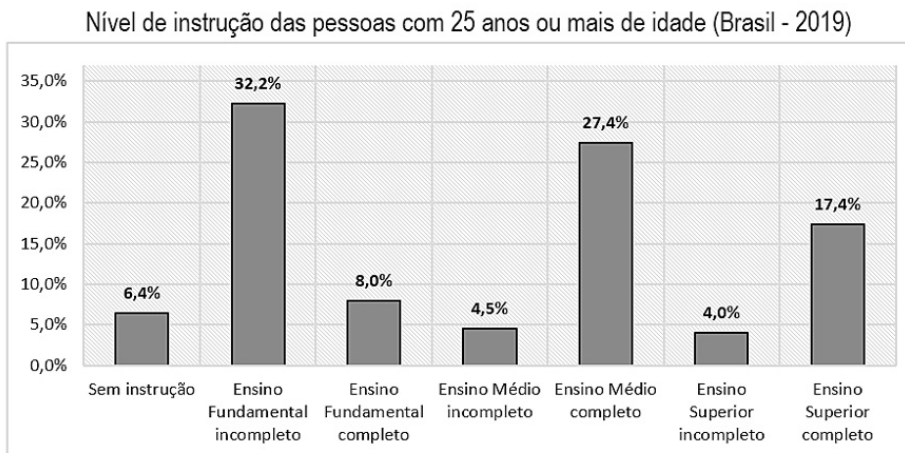


Qual alternativa representa o movimento de visitantes na biblioteca, começando do dia de menor frequência até o dia de maior frequência?

- A) Sábado, sexta-feira, quinta-feira, terça-feira, quarta-feira, segunda-feira.
- B) Segunda-feira, quarta-feira, quinta-feira, sexta-feira, terça-feira, sábado.
- C) Sábado, sexta-feira, terça-feira, quinta-feira, quarta-feira, segunda-feira.
- D) Segunda-feira, quarta-feira, quinta-feira, terça-feira, sexta-feira, sábado.

QUESTÃO 20

O gráfico a seguir mostra o nível de instrução de pessoas com 25 anos de idade ou mais, no Brasil em 2019, segundo o IBGE – Instituto Brasileiro de Geografia e Estatística.



Disponível em: <https://educa.ibge.gov.br/jovens/conheca-o-brasil/populacao/18317-educacao.html>. Acesso em: dez 2021.

Segundo as informações apresentadas no gráfico, em relação ao nível de instrução de pessoas com 25 anos de idade ou mais, é possível afirmar que

- A) o percentual total de pessoas com Ensino Médio completo e incompleto é de 40,2%.
- B) o percentual total de pessoas com Ensino Superior completo e incompleto é de 31,9%.
- C) o percentual total de pessoas com Ensino Fundamental completo e incompleto é de 21,4%.
- D) o percentual total de pessoas sem instrução, com Ensino Fundamental completo e incompleto é de 46,6%.

ATUALIDADES

QUESTÃO 21

Gentílico é a expressão que indica a naturalidade de alguém, assim, quem nasceu em Lagoa Santa é:

- A) Lagoa-santanense.
- B) Lagoa-santense.
- C) Lagoense.
- D) Santanense.

QUESTÃO 22

O Município de Lagoa Santa faz parte da bacia do Rio

- A) da Mata.
- B) das Velhas.
- C) do Bebedouro.
- D) do Fidalgo.

QUESTÃO 23

Lapinha, onde se situa a gruta mais famosa do município, é de Lagoa Santa um(a)

- A) bairro.
- B) cidade vizinha.
- C) distrito.
- D) sede do município.

QUESTÃO 24

No ano de 2022, ocorrerá eleição para o Poder Executivo Federal, quando o eleitor poderá votar para:

- A) Deputado.
- B) Governador.
- C) Presidente.
- D) Senador.

QUESTÃO 25

A Organização Mundial da Saúde (OMS) declarou que a Covid-19, causada pelo novo coronavírus, já é uma pandemia. [...]

Disponível em: <https://www.bio.fiocruz.br/index.php/br/noticias/1763-o-que-e-uma-pandemia>. Acesso em: 6 jan. 2022.

A Covid-19 se transformou em uma pandemia porque

- A) atingiu o mundo inteiro.
- B) produziu diferentes variantes.
- C) provocou muitas mortes em pouco tempo.
- D) uniu governos na busca de um remédio.

FOLHA DE RESPOSTAS (VERSÃO DO CANDIDATO)

1	A	B	C	D	14	A	B	C	D
	<input type="checkbox"/>	<input type="checkbox"/>	<input type="checkbox"/>	<input type="checkbox"/>		<input type="checkbox"/>	<input type="checkbox"/>	<input type="checkbox"/>	<input type="checkbox"/>
2	A	B	C	D	15	A	B	C	D
	<input type="checkbox"/>	<input type="checkbox"/>	<input type="checkbox"/>	<input type="checkbox"/>		<input type="checkbox"/>	<input type="checkbox"/>	<input type="checkbox"/>	<input type="checkbox"/>
3	A	B	C	D	16	A	B	C	D
	<input type="checkbox"/>	<input type="checkbox"/>	<input type="checkbox"/>	<input type="checkbox"/>		<input type="checkbox"/>	<input type="checkbox"/>	<input type="checkbox"/>	<input type="checkbox"/>
4	A	B	C	D	17	A	B	C	D
	<input type="checkbox"/>	<input type="checkbox"/>	<input type="checkbox"/>	<input type="checkbox"/>		<input type="checkbox"/>	<input type="checkbox"/>	<input type="checkbox"/>	<input type="checkbox"/>
5	A	B	C	D	18	A	B	C	D
	<input type="checkbox"/>	<input type="checkbox"/>	<input type="checkbox"/>	<input type="checkbox"/>		<input type="checkbox"/>	<input type="checkbox"/>	<input type="checkbox"/>	<input type="checkbox"/>
6	A	B	C	D	19	A	B	C	D
	<input type="checkbox"/>	<input type="checkbox"/>	<input type="checkbox"/>	<input type="checkbox"/>		<input type="checkbox"/>	<input type="checkbox"/>	<input type="checkbox"/>	<input type="checkbox"/>
7	A	B	C	D	20	A	B	C	D
	<input type="checkbox"/>	<input type="checkbox"/>	<input type="checkbox"/>	<input type="checkbox"/>		<input type="checkbox"/>	<input type="checkbox"/>	<input type="checkbox"/>	<input type="checkbox"/>
8	A	B	C	D	21	A	B	C	D
	<input type="checkbox"/>	<input type="checkbox"/>	<input type="checkbox"/>	<input type="checkbox"/>		<input type="checkbox"/>	<input type="checkbox"/>	<input type="checkbox"/>	<input type="checkbox"/>
9	A	B	C	D	22	A	B	C	D
	<input type="checkbox"/>	<input type="checkbox"/>	<input type="checkbox"/>	<input type="checkbox"/>		<input type="checkbox"/>	<input type="checkbox"/>	<input type="checkbox"/>	<input type="checkbox"/>
10	A	B	C	D	23	A	B	C	D
	<input type="checkbox"/>	<input type="checkbox"/>	<input type="checkbox"/>	<input type="checkbox"/>		<input type="checkbox"/>	<input type="checkbox"/>	<input type="checkbox"/>	<input type="checkbox"/>
11	A	B	C	D	24	A	B	C	D
	<input type="checkbox"/>	<input type="checkbox"/>	<input type="checkbox"/>	<input type="checkbox"/>		<input type="checkbox"/>	<input type="checkbox"/>	<input type="checkbox"/>	<input type="checkbox"/>
12	A	B	C	D	25	A	B	C	D
	<input type="checkbox"/>	<input type="checkbox"/>	<input type="checkbox"/>	<input type="checkbox"/>		<input type="checkbox"/>	<input type="checkbox"/>	<input type="checkbox"/>	<input type="checkbox"/>
13	A	B	C	D					
	<input type="checkbox"/>	<input type="checkbox"/>	<input type="checkbox"/>	<input type="checkbox"/>					

AO TRANSFERIR ESSAS MARCAÇÕES PARA A FOLHA DE RESPOSTAS,
OBSERVE AS INSTRUÇÕES ESPECÍFICAS DADAS NA CAPA DA PROVA.

USE CANETA ESFEROGRÁFICA AZUL OU PRETA.

**ATENÇÃO:
AGUARDE AUTORIZAÇÃO
PARA VIRAR O CADERNO DE PROVA.**